

Prénom:

## PLAN DE TRAVAIL N°13 - CE1



1

Conjugué le verbe être au présent:

tu	
Nous	
Elles	
je	
Vous	
Il	
Ils	
elle	

2

Je complète les phrases avec le verbe être au présent:

- Il \_\_\_\_\_ dans la classe de CE1.
- Nous \_\_\_\_\_ 24 élèves.
- Je \_\_\_\_\_ à côté de toi!
- Vous \_\_\_\_\_ attentifs pendant la leçon.
- Tu \_\_\_\_\_ en retard.
- Elles \_\_\_\_\_ sœurs jumelles.

3

## Grammaire



Classe dans le tableau les différents noms :

un lapin, un élève, ma mère, un phoque, un sapin, mon journal, son cheval, une pipe, une voiture, la lune, la neige, la maîtresse, la directrice, un oiseau, l'ours, le chanteur

PERSONNES	ANIMAUX	CHOSSES

4

Colorie en rouge les noms propres, en bleu les noms communs.

un ordinateur, Pierre, une ville, Dombasle, Paris, une capitale, une lettre, une histoire, Mme Delepee, des loups, la mer, la France, une chaussure, l'Australie, Bruxelles, le désert, un boomerang, Yapa.

5

Orthographe

Je colorie les mots bien écrits



Un prénom	blont	bon	Une chensson	Un balon
Un nombre	Une chanson	Un prénon	Un garçon	La conjugaison
blond	Ils fons	La conjugaison	bom	lont
Un garçon	Un ballon	long	Ils font	Un nombre

6

Orthographe

Je colorie les noms féminins en rouge et les noms masculins en bleu.



ours	oiseau	écharpe
traîneau	luge	glace
flocon	neige	manteau

7

Orthographe

Je trouve le féminin des noms:

Un chanteur: \_\_\_\_\_

Un chien: \_\_\_\_\_

Un directeur: \_\_\_\_\_

Un chat: \_\_\_\_\_

Un acteur: \_\_\_\_\_

Un lion: \_\_\_\_\_

8

Vocabulaire

J'écris le contraire de chaque phrase: je cherche dans le dictionnaire le contraire du mot souligné.

❖ Tu es généreux.❖ Cet animal est peureux.❖ Alice va rapetisser avec cette potion.❖ Cette viande est tendre.❖ Il faut retrancher pour trouver la réponse.

9

Relie ce qui va ensemble (les contraires)

Allumer

Léger

Clair

Court

Lourd

Sale

Long

Éteindre

Lisible

Illisible

Propre

Foncé

**10****Écriture**

Je copie la phrase:



Nathan habite à Nantes mais il veut déménager en Norvège.


**11****Numération**

Complète les suites de 1 en 1



86																			
----	--	--	--	--	--	--	--	--	--	--	--	--	--	--	--	--	--	--	--

112																			
-----	--	--	--	--	--	--	--	--	--	--	--	--	--	--	--	--	--	--	--

160																			
-----	--	--	--	--	--	--	--	--	--	--	--	--	--	--	--	--	--	--	--

200																			
-----	--	--	--	--	--	--	--	--	--	--	--	--	--	--	--	--	--	--	--

**12**

Complète les suites de 10 en 10

20																			
----	--	--	--	--	--	--	--	--	--	--	--	--	--	--	--	--	--	--	--

150																			
-----	--	--	--	--	--	--	--	--	--	--	--	--	--	--	--	--	--	--	--

47																			
----	--	--	--	--	--	--	--	--	--	--	--	--	--	--	--	--	--	--	--

69																			
----	--	--	--	--	--	--	--	--	--	--	--	--	--	--	--	--	--	--	--

**13**

Entoure le plus grand des nombres dans chaque étiquette:

250 - 280

489 - 624

567 - 562

652 - 780 - 325

257 - 914 - 974

852 - 638 - 528



700 - 597 - 792

621 - 611 - 601

14

Géométrie

Je reproduis la figure et je colorie:



15

Problèmes

Réponds aux questions en t'aidant du tableau:



	lundi	mardi	jeudi	vendredi
Boules vertes	12	15	15	19
Boules bleues	13	14	16	17
Boules rouges	20	14	12	10

Combien de boules bleues le marchand a vendu mardi? \_\_\_\_\_


Combien de boules vertes la marchand a vendu lundi? \_\_\_\_\_

Quel jour le marchand a vendu 20 boules rouges? \_\_\_\_\_

Quel jour le marchand a-t-il vendu 43 boules? \_\_\_\_\_

Quel jour le marchand a-t-il vendu le plus de boules?  
\_\_\_\_\_

16

Opérations

	1	8	3
+	1	4	2
<hr/>			

	2	5	1
+	3	7	3
<hr/>			

	5	8	5
+	1	6	0
<hr/>			





