

DEFI MATH CE1

Envoie moi tes réponses et je te donnerai ton nombre de points...

1. Qui suis-je ?

sur 8 points

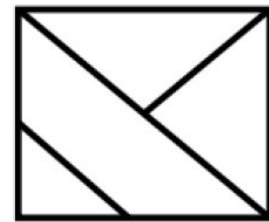
- Je suis un nombre à 3 chiffres.
- Je suis plus grand que 203 et plus petit que 289.
 - Mon chiffre des dizaines est le double de celui des centaines.
 - La somme de mes 3 chiffres est 15.

Qui suis-je ?

2. Le vitrail

sur 8 points

Combien voyez-vous de triangles dans ce vitrail ?



3. Au feu !

sur 12 points

Avec 4 verres, on remplit une carafe.

Avec 2 carafes, on remplit une casserole.


Avec 2 casseroles, on remplit un seau.

Combien faut-il de verres pour remplir un seau ?


4. Le tangram

sur 12 points

Observe ce tangram.



Avec les formes du tangram, on a fabriqué cette figure.



Une seule forme n'est pas utilisée, laquelle ?