
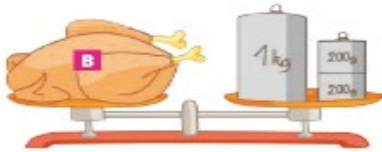


Prénom : ..... Date : .....

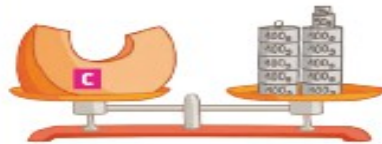
**3** Écris la masse de chaque aliment, puis range les aliments du plus léger au plus lourd.



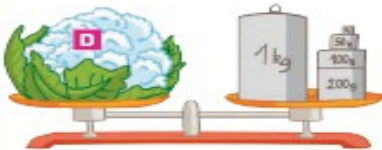
Masse de l'ananas **A** = ..... kg ..... g.



Masse du poulet **B** = ..... kg ..... g.



Masse du potiron **C** = ..... kg ..... g.

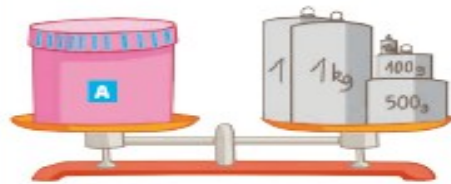


Masse du chou-fleur **D** = ..... kg ..... g.

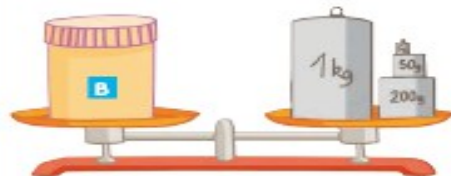
Masse de ..... < masse de ..... < masse de ..... < masse de .....

Je m'entraîne à mon rythme • Les pesées

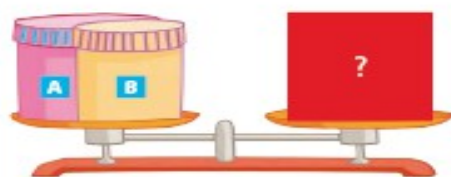
Écris la masse de chaque objet.



Masse de **A** = ..... kg ..... g.



Masse de **B** = ..... kg ..... g.



Masse des deux objets **A** et **B**  
= ..... kg ..... g.