






Mesurer le périmètre d'un polygone

① Quel est le périmètre de ces trois polygones réguliers ? un polygone régulier à tous ses côtés de même longueur.

| | | |
|---|---|---|
|  |  |  |
| Chaque côté de ce triangle mesure 2 cm | Chaque côté de cette étoile mesure 30 mm | Chaque côté de ce pentagone mesure 5 m |
| Calcul : Le périmètre du triangle est _____. | Calcul : Le périmètre de l'étoile est _____. | Calcul : Le périmètre du pentagone est _____. |

② Complète le tableau : trouve le périmètre ou la longueur du côté des différents carrés : attention aux unités !

| | Carré A | Carré B | Carré C | Carré D |
|------------------|---------|---------|---------|---------|
| Longueur du côté | 3 mm | | 5 cm | |
| Périmètre | | 16 m | | 40 dm |

③ Complète le tableau suivant :

| | Rectangle A | Rectangle B | Rectangle C | Rectangle D |
|------------------|-------------|-------------|-------------|-------------|
| Longueur du côté | 5 mm | 8 cm | 12 dm | |
| Largeur du coté | 3 mm | | 10 dm | 4 m |
| Périmètre | | 30 cm | | 46 m |