


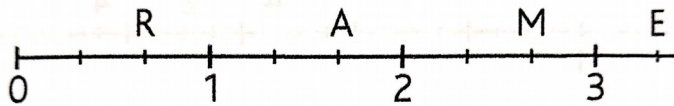
Corrections des mathématiques CM1 – Jeudi 9 avril

Repérer une fraction sur une droite graduée

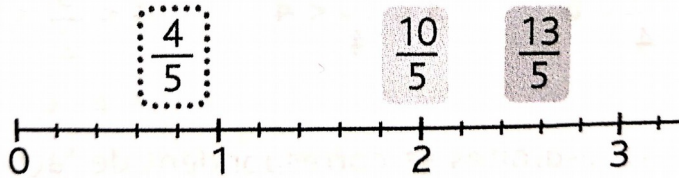
- 1 Dans cet exercice, l'unité est déjà partagée en quarts.



- 2 Dans cet exercice, l'unité est déjà partagée en tiers.

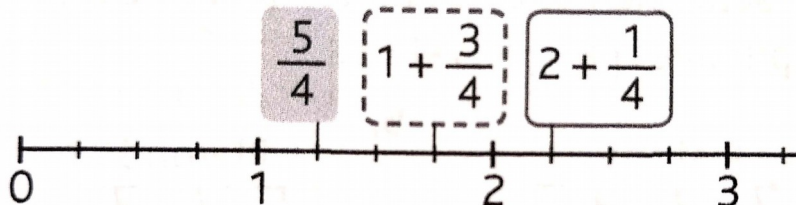


- 3 L'exercice permet de repréciser qu'un nombre entier peut s'écrire sous forme de fraction.



4 Il s'agit de compter les quarts dans des nombres entiers et d'y ajouter une fraction en quarts elle aussi.

a.



b. $1 + \frac{3}{4} = \frac{7}{4}$ $2 + \frac{1}{4} = \frac{9}{4}$ $\frac{5}{4} = 1 + \frac{1}{4}$