



- 4 Il y a 5 assiettes.  
Il y a 4 pommes sur chaque assiette.



$$\square \times \square = \square$$

Il y a  pommes en tout.


- 5 Victor a acheté 3 boîtes d'œufs.  
Il y a 10 œufs par boîte.



$$\square \times \square = \square$$

Il y a  œufs en tout.

- 6 Léonie a acheté 7 boîtes d'éclairs au chocolat.  
Il y a 5 éclairs au chocolat par boîte.



$$\square \times \square = \square$$

Il y a  éclairs au chocolat en tout.