








Lundi 06 avril 2020

### La soustraction sans retenue

 Léo a 78€ dans son porte-monnaie.  
Il achète un robot à 34€.  
Ecris dans les cadres du bas le nombre de pièces et de billets qui lui restent.


  

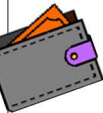



 
$$\begin{array}{r} - 34 \\ \hline \end{array}$$


Pose et calcule  $78 - 34$  en colonnes.

D	U
.	.
.	.
.	.
.	.

$$\begin{array}{r} - \\ \hline \end{array}$$

 Nina a 187€ dans son porte-monnaie.  
Elle achète une robe à 52€.  
Ecris dans les cadres du bas le nombre de pièces et de billets qui lui restent.


   


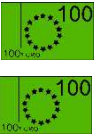


 
$$\begin{array}{r} - 52 \\ \hline \end{array}$$


Pose et calcule  $187 - 52$  en colonnes.

C	D	U
.	.	.
.	.	.
.	.	.

$$\begin{array}{r} - \\ \hline \end{array}$$

 Grifil a 264€ dans son porte-monnaie.  
Il achète des bonbons pour 123€.  
Ecris dans les cadres du bas le nombre de pièces et de billets qui lui restent.

 
$$\begin{array}{r} - 123 \\ \hline \end{array}$$

Pose et calcule  $264 - 123$  en colonnes

C	D	U
.	.	.
.	.	.
.	.	.

$$\begin{array}{r} - \\ \hline \end{array}$$