



Ecole publique de la fontaine
- Cherbourg







EXERCICES MATH


Fiche CE1

Vendredi 10 avril 2020

La soustraction avec retenue

 Léo a 84€ dans son porte-monnaie.
Il achète un ballon à 38€.
Ecris dans les cadres du bas le nombre de pièces et de billets qui lui restent.


  



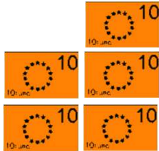


$$\begin{array}{r} - 38 \\ \hline \end{array}$$


Pose et calcule $84 - 38$ en colonnes.

D	U
---	---

$$\begin{array}{r} . \\ - . \\ \hline . \\ . \end{array}$$

 Nina a 158€ dans son porte-monnaie.
Elle achète un vélo à 85€.
Ecris dans les cadres du bas le nombre de pièces et de billets qui lui restent.


   


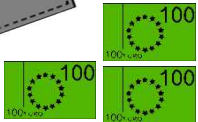



$$\begin{array}{r} - 85 \\ \hline \end{array}$$

Pose et calcule $158 - 85$ en colonnes.

C	D	U
---	---	---

$$\begin{array}{r} . \\ - . \\ \hline . \\ . \end{array}$$

 Grifil a 365€ dans son porte-monnaie.
Il achète un costume pour 195€.
Ecris dans les cadres du bas le nombre de pièces et de billets qui lui restent.

$$\begin{array}{r} - 195 \\ \hline \end{array}$$

Pose et calcule $365 - 195$ en colonnes

C	D	U
---	---	---

$$\begin{array}{r} . \\ - . \\ \hline . \\ . \end{array}$$