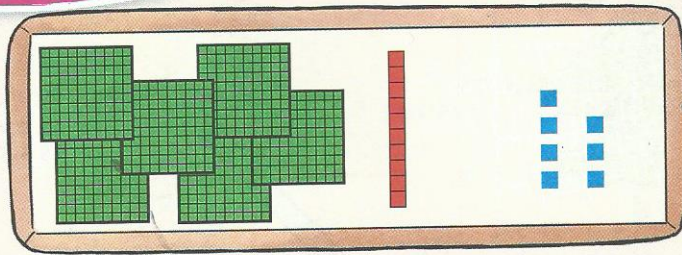


Calcul mental: Dictée de nombres < 100.



Je comprends

Pour bien démarrer: Ce nombre croit en lui-même.



Et toujours le vert pour les centaines, le rouge pour les dizaines et le bleu pour les unités.

c	d	u
6	1	7


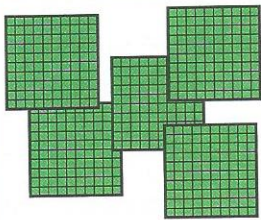
$$6 \text{ centaines} \quad 1 \text{ dizaine} \quad 7 \text{ unités}$$

$$600 \quad + \quad 10 \quad + \quad 7 = \mathbf{617}$$

En tout, il y a **617** carrés.

J'applique

1 Complète.

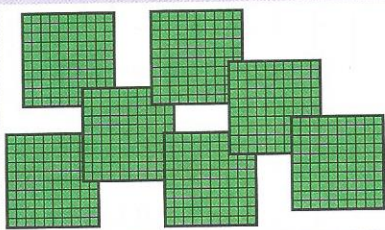


___ centaines
___ dizaines
___ unités

En tout, il y a

c	d	u
___	___	___

 carrés.



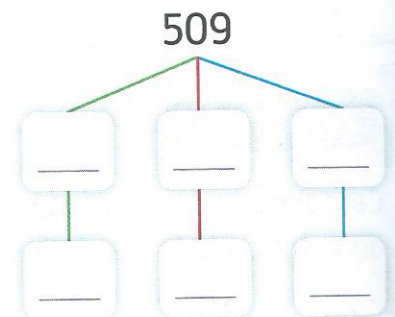
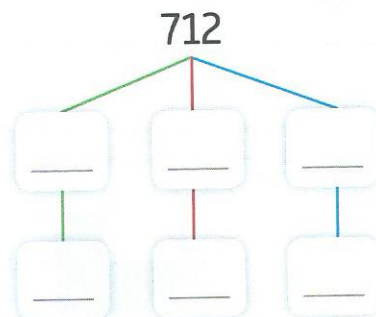
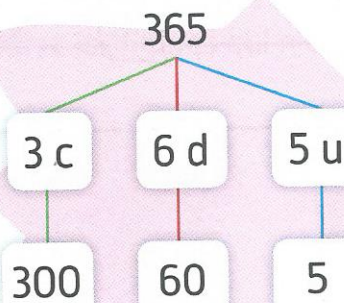
___ centaines
___ dizaine
___ unité

En tout, il y a

c	d	u
___	___	___

 carrés.

2 Décompose comme dans l'exemple.



3 Écris le résultat.

$$100 + 100 + 100 + 100 + 100 + 100 + 10 + 10 + 10 + 10 + 10 + 1 = \underline{\quad}$$

$$100 + 100 + 100 + 100 + 100 + 100 + 100 + 10 + 10 + 10 + 4 = \underline{\quad}$$