

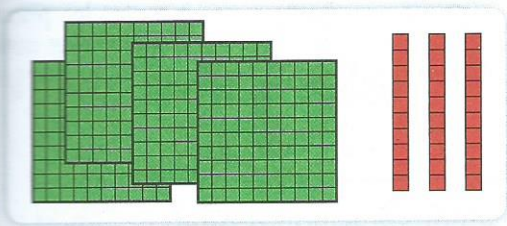
Écris en chiffres et en lettres un nombre de trois chiffres :

dont le chiffre des dizaines est 4 : _____

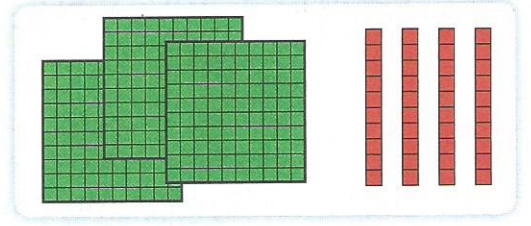
dont le chiffre des centaines est 3 : _____

dont le chiffre des unités est 2 : _____

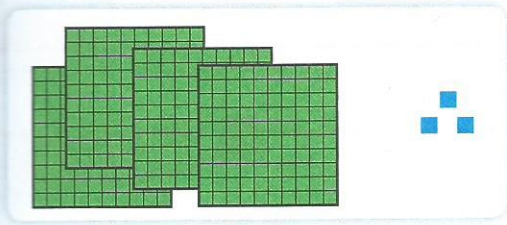
Relie.



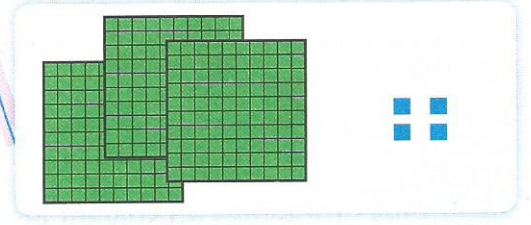
304



403



430



340

5 Calcule.

$$300 + 40 + 6 = 346$$

$$200 + 30 + 9 = \underline{\hspace{2cm}}$$

$$100 + 70 + 5 = \underline{\hspace{2cm}}$$

$$400 + 90 + 8 = \underline{\hspace{2cm}}$$

$$400 + 2 = \underline{\hspace{2cm}}$$



6 Décompose chaque nombre.

$$274 = 200 + 70 + 4$$

$$381 = \underline{\hspace{2cm}}$$

$$250 = \underline{\hspace{2cm}}$$

$$409 = \underline{\hspace{2cm}}$$

$$207 = \underline{\hspace{2cm}}$$

J'approfondis

7 Trouve les six nombres que tu peux former en utilisant uniquement : 1 2 et 3 :

Puis écris-les dans l'ordre croissant (du plus petit au plus grand).

