

Nombres et quantités : de 0 à 999

3  15

1 Complète avec <, > ou =:

312

<

$300 + 20 + 1$

356

=

$300 + 50 + 6$

650

<

$600 + 80 + 8$

521

>

$500 + 20$

520

>

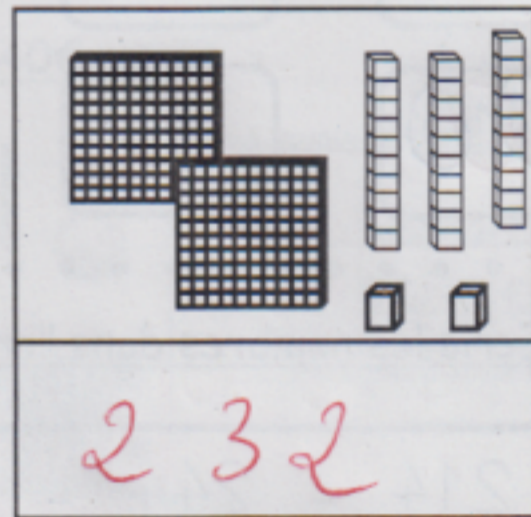

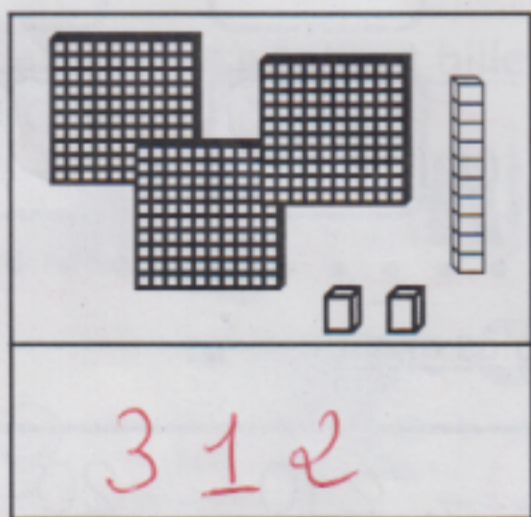
$500 + 2$

420

>

$200 + 200$

2 Compte et complète :



3 Ecris les nombres du plus grand au plus petit:

605 - 215 - 660 - 102 - 952 - 259 - 99

952

660

605

259

215

102

99

4 Complète :

