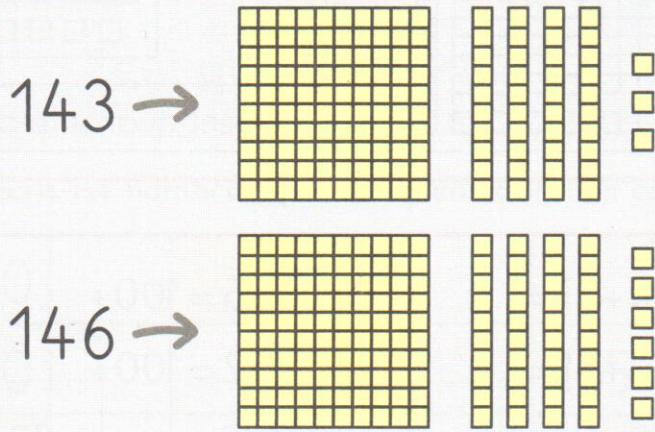


21


Comparer les nombres jusqu'à 199

✓ Pour comparer les nombres 143 et 146, je commence par comparer les chiffres des centaines. En cas d'égalité, je compare les chiffres des dizaines. S'ils sont égaux, je compare les chiffres des unités.




$$143 < 146$$

1 Écris le nombre de cubes de chaque enfant. Compare les deux nombres pour savoir quel enfant a le plus de cubes.




138



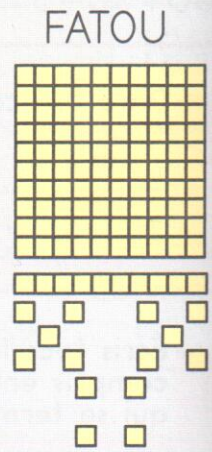
142

Qui a le plus de cubes?

Tom



134

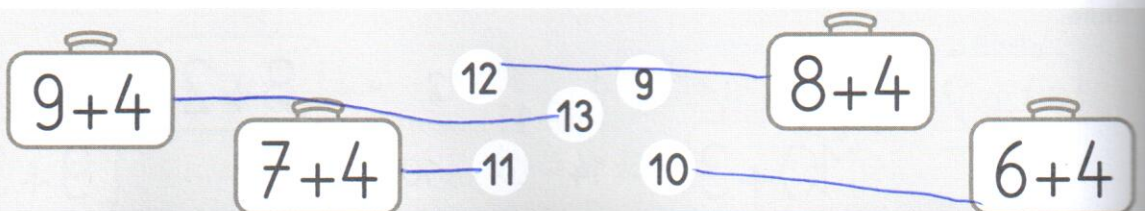


124

Qui a le plus de cubes?

Lila

Relie.



Complète avec le signe < ou >.

2

58 < 65

124 < 142

197 > 192

70 > 64

174 > 147

160 > 159

115 > 97

109 < 190

106 > 103

87 < 103

180 < 185

120 < 130

Range les nombres du plus petit au plus grand.

3

183

86

178

109

138

187

86 < 109 < 138 < 178 < 183 < 187

Compare les nombres en utilisant les signes <, > ou =.

4

100 + 40 + 5 > 100 + 40 + 3

100 + 57 = 100 + 50 + 7

100 + 70 + 8 < 100 + 70 + 9

100 + 90 > 100 + 9

100 + 80 > 100 + 70 + 8

8 + 20 + 100 < 8 + 30 + 100

100 + 80 + 6 = 100 + 86

100 + 90 + 1 = 190 + 1

Résous le problème dans ton cahier.

5

Quatre enfants jouent aux fléchettes.
Mila a obtenu 178 points.
Léo a obtenu 109 points.
Fatou a obtenu 190 points.
Tom a obtenu 187 points.
Qui a gagné la partie?

Fatou

Résous le problème dans ton cahier.

6

Lilou et Tom collectionnent des images d'animaux.
Lilou a 15 pochettes de 10 images et 9 images.
Tom a une boîte de 100 images et 6 pochettes de 10 images.
Qui a le plus d'images?
Explique pourquoi.

Tom

Réponds.

Quel est le double de 13? 26

Quel est le double de 11? 22

Quel est le double de 15? 30

Quel est le double de 14? 28