



CHAPITRE 1



Résolution de problèmes



une unité = 1 = ●

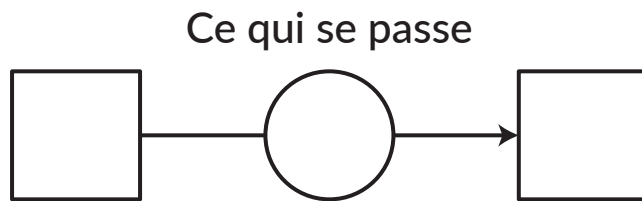
cinq unités = 5 = ●●●●●

une dizaine = 10 = 

deux dizaines = 20 = 

Une histoire où il se passe quelque chose :

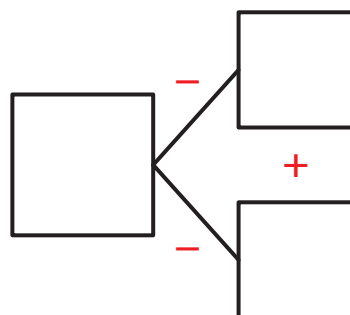
- Au début
- Avant
- Ce matin



- À la fin
- Après
- Maintenant
- Ce soir

Une histoire où il ne se passe rien :

En tout
Au total




Une partie

Une partie

1

Pierre a 3 images de footballeur.
Son frère lui en donne 5.

Combien Pierre en a-t-il maintenant ?




Pierre a

3 images maintenant.

2

Il y avait 8 grenouilles dans mon aquarium.
3 grenouilles s'échappent.

Combien de grenouilles me reste-t-il ?




Il me reste

5 grenouilles.

3

Matis a 2 toupies.
Julien lui donne 7 toupies.

Combien en a-t-il maintenant ?




Matis a

toupies maintenant.

4

Tony avait 9 euros ce matin.
Il dépense 6 euros pour acheter des bonbons.

Combien d'euros a-t-il maintenant ?



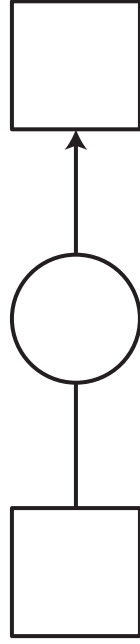
Tony a

euros maintenant.

5

La maîtresse avait 3 feutres.
Elle achète 6 feutres neufs.

Combien de feutres a la maîtresse ?




La maîtresse a

feutres.

6

Alice avait 7 images.
Elle en donne 2 à Jules.

Combien d'images a Alice maintenant ?



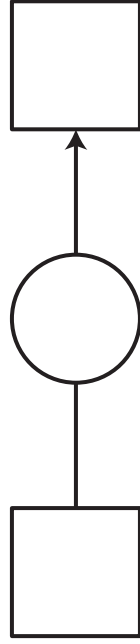
Maintenant, Alice a

images.

7

Il y a 1 garçon dans la classe.
9 garçons arrivent.

Combien y a-t-il de garçons dans la classe ?




Il y a

garçons.

8

Julie avait 10 billes.
Elle en perd 7 à la récréation.

Combien en a-t-elle maintenant ?



Julie a

billes.

9

Pour son anniversaire, Lucie partage ses bonbons avec son copain.
Elle partage donc équitablement 10 bonbons entre 2 enfants.

Combien de bonbons aura chaque enfant ?

Chaque enfant aura 5 bonbons.

10

Dans la cour de récréation, il y a 9 ballons.
3 enfants se partagent équitablement les ballons.

Combien de ballons aura chaque enfant ?

Chaque enfant aura 3 ballons.

11

Les élèves sont rangés devant la classe.
Il y a 4 groupes de 2 élèves.

Combien y a-t-il d'élèves en tout ?

Il y a élèves en tout.

12

Dans le champ du fermier, il y a 3 groupes de 3 moutons.

Combien y a-t-il de moutons dans le champ ?

Il y a moutons dans le champ.